




(iii) جان داروں میں کون سی بنیادی خصوصیات ایک جیسی ہوتی ہیں؟

(iv) پودوں کے دور حیات کے چوتھے مرحلے میں کیا ہوتا ہے؟

(v) حشرات کے دور حیات میں لاروا سے پوپا کس مرحلے میں بنتا ہے؟

SECTION-III

سوال نمبر 1۔ (الف): نیچے دی گئی تصویروں کو پہچانیں اور ان کے نام لکھیں۔



(ب): دیئے گئے الفاظ کی مدد سے خالی جگہ پُر کریں۔

مخول بچے مختلف زمین

(i) پودوں اور جانوروں کے دور حیات کے _____ مرحلے ہوتے ہیں۔

(ii) بچے کو _____ میں بویا جاتا ہے۔

(iii) انڈوں سے _____ نکلتے ہیں۔

(iv) پودے پر _____ نکلتے ہیں۔

کل نمبر: 25 واقفیت عامہ (سوئم) ٹیسٹ نمبر 6 وقت: 30 منٹ

تیسرا مہینا، پہلا ہفتہ، چھٹا دن **سلیبس:** ڈھرائی ٹیسٹ سلیبس (پہلا ہفتہ)

SECTION-I

(4) سوال نمبر 1۔ درج ذیل میں سے درست جواب کے گرد اڑہ کا نشان لگائیں۔

(i) پودوں کا دور حیات _____ مراحل پر مشتمل ہوتا ہے۔

| | | | | | | | |
|-------|----|-----|-----|-----|-----|-----|------|
| (الف) | دو | (ب) | تین | (ج) | چار | (د) | پانچ |
|-------|----|-----|-----|-----|-----|-----|------|

(ii) تمام پرندے پیدا ہوتے ہیں:

| | | | | | | | |
|-------|---------|-----|----------|-----|----------|-----|--------|
| (الف) | پانی سے | (ب) | انڈوں سے | (ج) | بیجوں سے | (د) | مٹی سے |
|-------|---------|-----|----------|-----|----------|-----|--------|

(iii) بچے سے پودا نکلتا ہے:

| | | | | | | | |
|-------|----------------|-----|-----------------|-----|-----------------|-----|-----------------|
| (الف) | پہلے مرحلے میں | (ب) | دوسرے مرحلے میں | (ج) | تیسرے مرحلے میں | (د) | چوتھے مرحلے میں |
|-------|----------------|-----|-----------------|-----|-----------------|-----|-----------------|

(iv) مرغی کا دور حیات مثال ہے:

| | | | | | | | |
|-------|------------|-----|----------|-----|-----------|-----|----------|
| (الف) | جانوروں کے | (ب) | پودوں کے | (ج) | پرندوں کے | (د) | حشرات کے |
|-------|------------|-----|----------|-----|-----------|-----|----------|

(4) (ب): کامل (الف) کو کامل (ب) سے ملائیں۔

| | |
|---------------------------------|--------------------------------|
| کالم (الف) | کالم (ب) |
| تمام جان دار ہوتے ہیں | پہلے مرحلے میں |
| جان دار پیدائش کے بعد گزرتے ہیں | اپنے جیسے جان دار پیدا کرنے کی |
| پرندے انڈے دیتے ہیں | مختلف مراحل سے |
| تمام جان دار صلاحیت رکھتے ہیں | ایک دوسرے سے مختلف |

SECTION-II

سوال نمبر 1۔ درج ذیل سوالات کے مختصر جواب لکھیں۔

(5x2=10)

(i) دور حیات سے کیا مراد ہے؟

(ii) کن جانوروں کے بچے پیدائش کے وقت اپنے والدین جیسے نہیں ہوتے؟